


6. Когда в сказке В.П. Катаева «Цветик-семицветик» Женя оказалась на Северном полюсе, то «из-за льдины вышли семь белых медведей и направились прямёхонько» к ней. Но в действительности она не могла встретить там белых медведей, потому что

- А) медведи водятся только на Южном полюсе;
- Б) на Северном полюсе слишком холодно;
- В) их всех распугали полярники;
- Г) там им трудно найти пищу;
- Д) лёд в районе Северного полюса слишком скользкий.

7. В пословице говорится: «Готовь сани летом, а телегу – зимой». Телега изображена на картинке




Задания, оцениваемые в 4 балла

8. На загородной дороге нужно идти

- А) по середине дороги;
- Б) по обочине или краю дороги по ходу движения транспорта;
- В) по обочине или краю дороги навстречу движению транспорта;
- Г) только большими группами людей;
- Д) как тебе удобно.

9. Одно из изображённых явлений не признак осени.



10. Во время первого кругосветного путешествия этому океану Магеллан дал имя.


- А) Атлантический;
- Б) Индийский;
- В) Северный Ледовитый;
- Г) Тихий;
- Д) Южный.

11. Полный оборот по орбите вокруг Солнца быстрее всех совершает

- А) Меркурий;
- Б) Земля;
- В) Юпитер;
- Г) Венера;
- Д) Нептун.

12. Из таких семян может вырасти


- А) пшеница;
- Б) помидор;
- В) огурец;
- Г) тыква;
- Д) арбуз.



13. Для полного разложения выброшенной в лесу газеты в среднем потребуется

- А) менее 1 недели;
- Б) от 1 месяца до 1 года;
- В) от 5 до 10 лет;
- Г) от 50 до 100 лет;
- Д) более 200 лет.

14. Каждую осень на этом дереве опадает хвоя.



Задания, оцениваемые в 5 баллов

15. День летнего солнцестояния – это день, когда

- А) Солнце на сутки приостанавливает своё вращение вокруг Земли;
- Б) Земля на сутки приостанавливает своё вращение вокруг Солнца;
- В) Земля располагается дальше всего от Солнца;
- Г) в Северном полушарии Солнце стоит над горизонтом наиболее высоко, а протяженность светового дня максимальна;
- Д) Солнце стоит над горизонтом в полдень наиболее низко, а протяженность светового дня минимальна.

16. На рисунке изображено живое существо. Кто из него вырастет?

